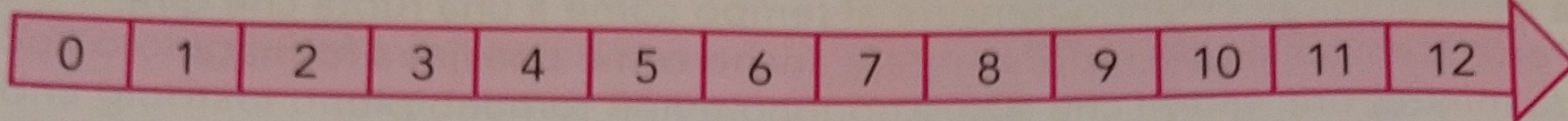
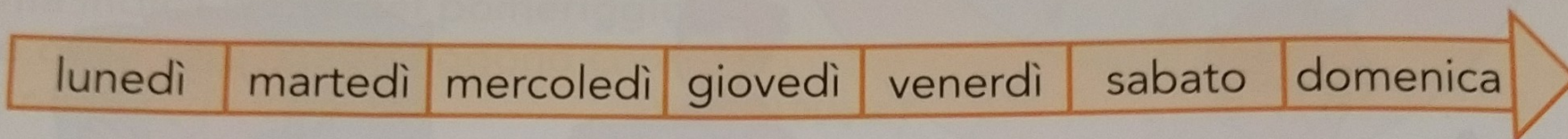


LE DURATE SULLA LINEA DEL TEMPO

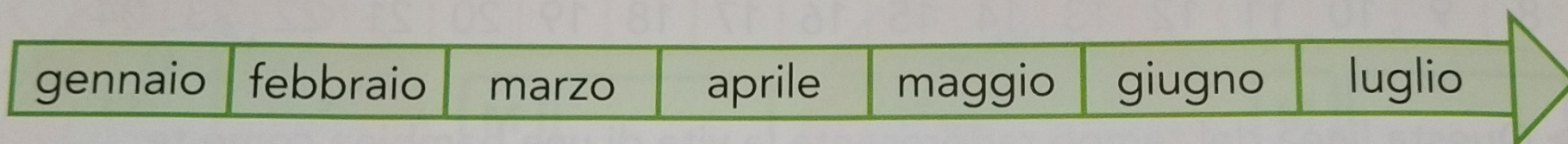
► Osserva e rispondi alle domande come nell'esempio.




- Quale durata rappresenta la linea?
La linea rappresenta mezza giornata.
- Quanto vale un segmento di questa linea?
Un segmento vale un'ora.



- Quale durata rappresenta la linea?
- Quanto vale un segmento di questa linea?



- Quale durata rappresenta la linea?
- Quanto vale un segmento di questa linea?



- Quale durata rappresenta la linea?
- Quanto vale un segmento di questa linea?